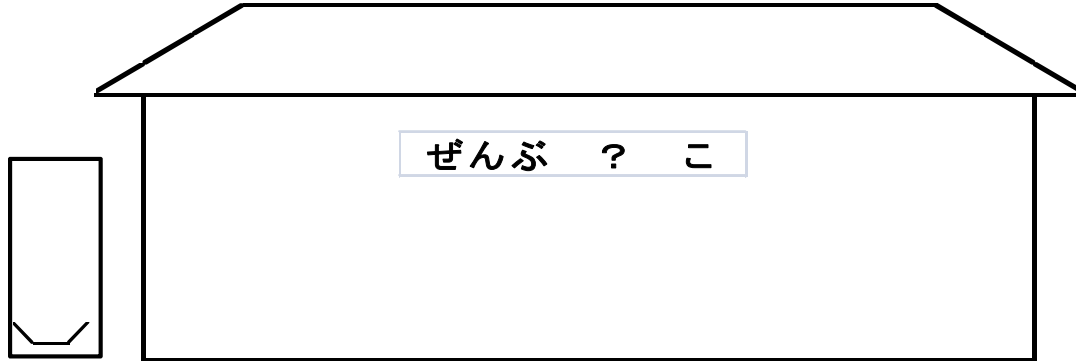


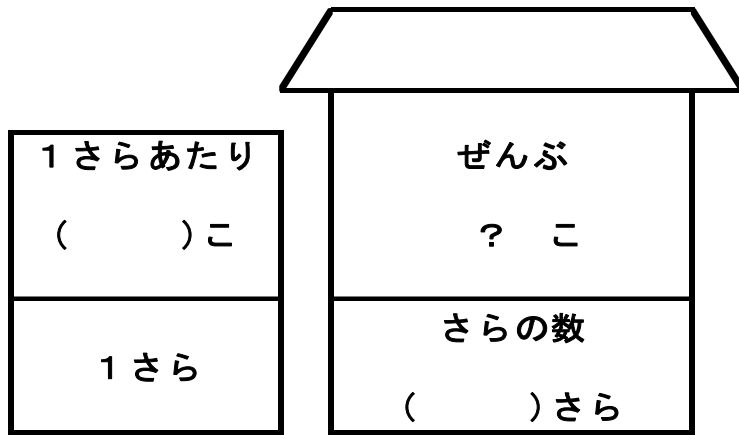
- ① 1さらに 3こ りんごが、はいつています。
- ② 7さら あります。
- ③ りんごは、ぜんぶで なんこ あるでしょう。

<ヒント>  
 ①の文…かんばん  
 ②の文…さらの数  
 ③の文…たずねて  
 いる文

(1) お店やさんに かんばんと さらの数を かきこもう。



(2) お店やさんに 数字で書き込もう。



(3) 表に書きこもう。

1さらあたり ( )こ	ぜんぶ ? こ
1さら	さらの数 ( )さら

(4) しきに 書いて 答えを もとめよう。

しき

答え

---

- ① 1さらに みかんが 8こ はいています。  
 ② 4さら あります。  
 ③ みかんは、ぜんぶで なんこ あるでしょう。

<ヒント>  
 ①の文…かんばん  
 ②の文…さらの数  
 ③の文…たずねて  
 いる文

表

1さらあたり ( )こ	ぜんぶ ? こ
1さら	さらの数 ( )さら

しき

答え

- ① 1さらに バナナが 6本 はいています。  
 ② 5さら あります。  
 ③ バナナは、ぜんぶで なん本 あるでしょう。

表

1さらあたり ( )	ぜんぶ ?
1さら	さらの数 ( )さら

しき

答え

今まで かけざんの 勉強を わかりやすくするために  
**かんばん (1さらになんこ)** とか **さらの数** ということばで かけざん  
 に ついて 考えてきました。  
 かけざんは **いろいろな ばめん**で つかわれます。そこで、いろいろな  
 ばめんの かけざんについて 勉強しましょう。

- ① みかんが 1ふくろに 6こ はいって  
います。
- ② 4ふくろ あります。
- ③ みかんは、ぜんぶで なんこ あるで  
しょう。

- ① 1本9円の 花が あります。
- ② 6本 買いました。
- ③ 花だいを いくら はらえば いいで  
しょう。

表

1ふくろあたり こ	ぜんぶ ?  こ
1ふくろ	ふくろの数 ふくろ

表

1本あたり 円	ぜんぶ ?  円
1本	買った本数 本

しき

しき

答え \_\_\_\_\_

答え \_\_\_\_\_

### 学習のまとめ

1さらあたり  
1ふくろあたり  
1本あたり

今まで **かんばん**と  
言ってきた

まとめて  
1あたり量  
 といいます。

さらの数  
ふくろの数  
本数

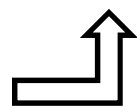
まとめて  
いくつぶん  
 といいます。

1あたり量	ぜんぶ ?
1	いくつぶん

※かならず たんいを つけましょう。

かけざんのしき

**1あたり量 × いくつぶん = 全体の量 (ぜんぶ)**



かけざんの 文章問題には、いろいろ あります。  
 今までは、  
 ①の文… 1あたり量 (かんばん)  
 ②の文… いくつぶん (さらの数)  
 ③の文… たずねている文  
 という 形で 勉強してきました。

でも、かけざんの 文章問題には、じゅんばんが ちがったり、1つの 文の 中に 2つの こと を 書いていたり いろいろ あります。  
 こんどは、いろいろな 文章問題に ちょうせん しよう。

②	がようしを 8まい 買いました。
①	1まいの ねだんは 9円です。
③	なん円 はらえば いいでしょう。

	1だいの そりを ひくのに、犬を 6 ぴき つかいます。
	3だいの そりを ひくには、犬を な んぴき つかいますか。

表

1あたり量	ぜんぶ ?
1	いくつぶん

※かならず たんいを つけましょう。

しき

答え

---

1あたり量	ぜんぶ ?
1	いくつぶん

※かならず たんいを つけましょう。

しき

答え

---

	やきゅうの しあいを します。
	9人ずつの くみが 5つ できまし た。
	やきゅうを する 人は、ぜんぶで な ん人 いますか。

	こしかけが、7つ あります。
	1つの こしかけに 8人ずつ すわる と、ぜんぶで なん人 すわれますか。

表

1あたり量	ぜんぶ ?
1	いくつぶん

※かならず たんいを つけましょう。

しき

答え

---

1あたり量	ぜんぶ ?
1	いくつぶん

※かならず たんいを つけましょう。

しき

答え

---