


4×6 のしきが、あります。
お店やさんに、「かんばん」「さら」「絵」を かいて、
答えを もとめましょう。

(さらの 上に かく 絵は、じゅうです。)

しき $4 \times 6 =$



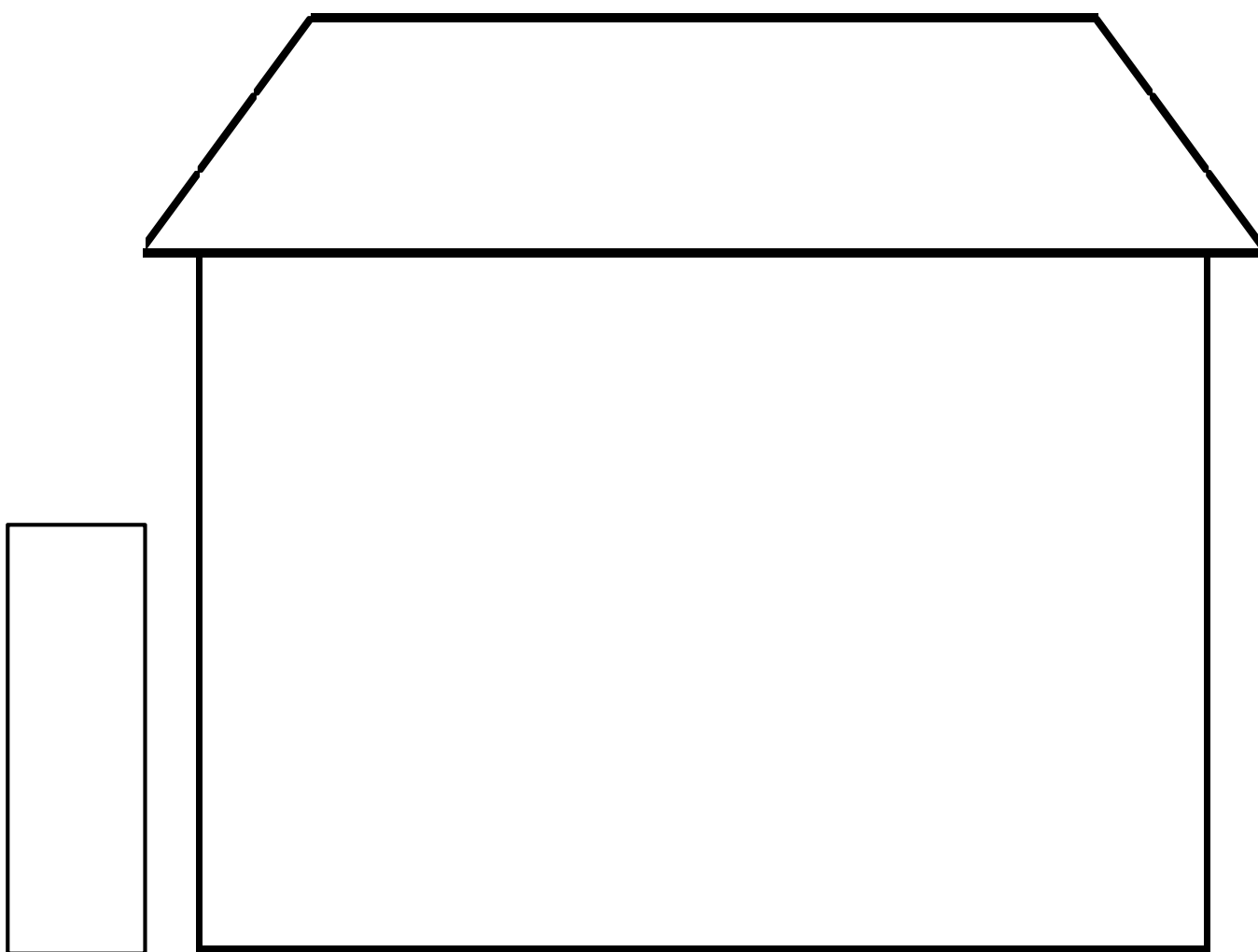
答え

4 の だ ん なまえ

ばか んん	お 店 の 中 の さ ら の 数									となえかた
										し き
										$4 \times 1 =$
										$4 \times 2 =$
										$4 \times 3 =$
										$4 \times 4 =$
										$4 \times 5 =$
										$4 \times 6 =$
										$4 \times 7 =$
										$4 \times 8 =$
										$4 \times 9 =$

8×4 のしきが、あります。
お店やさんに、「かんばん」「さら」「タイル」を かいて、
答えを もとめましょう。

しき $8 \times 4 =$

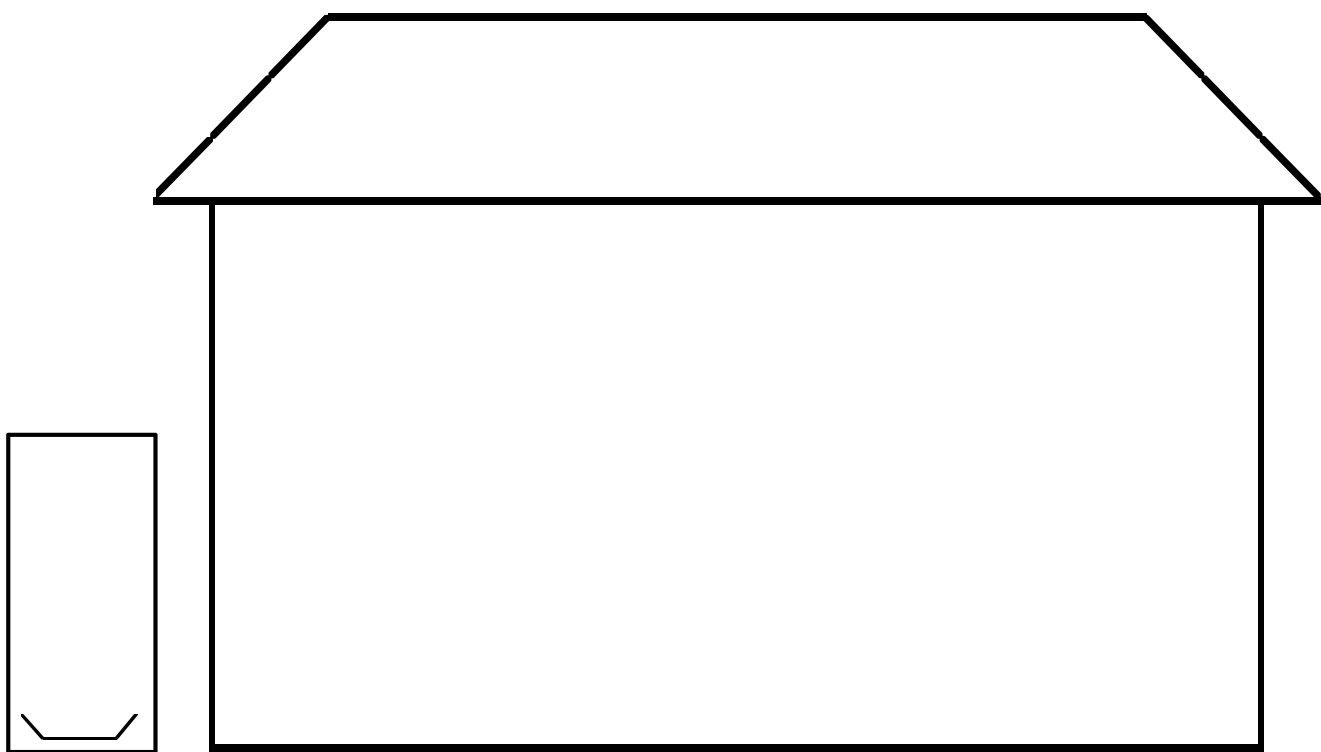


答え

8 の だ ん な ま え

ばか ん	お 店 の 中 の さ ら の 数									と な え か た	
										し	き
											$8 \times 1 =$
											$8 \times 2 =$
											$8 \times 3 =$
											$8 \times 4 =$
											$8 \times 5 =$
											$8 \times 6 =$
											$8 \times 7 =$
											$8 \times 8 =$
											$8 \times 9 =$

- ① 1さらに 9こ みかんが はいっています。
- ② おなじ かずずつ はいった さらが、5さら あります。
- ③ みかんは、ぜんぶで なんこ あるでしょう。



しき

答え
