

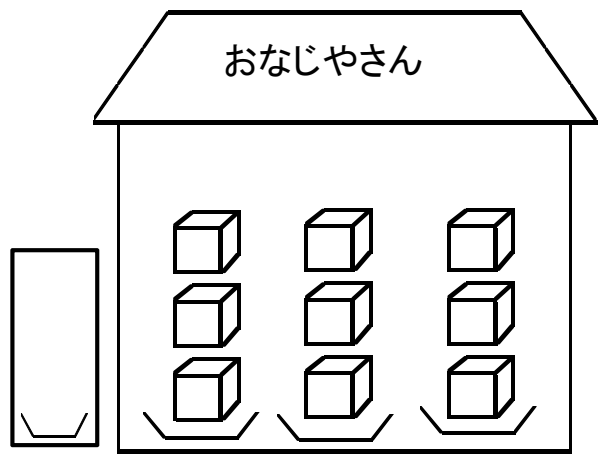
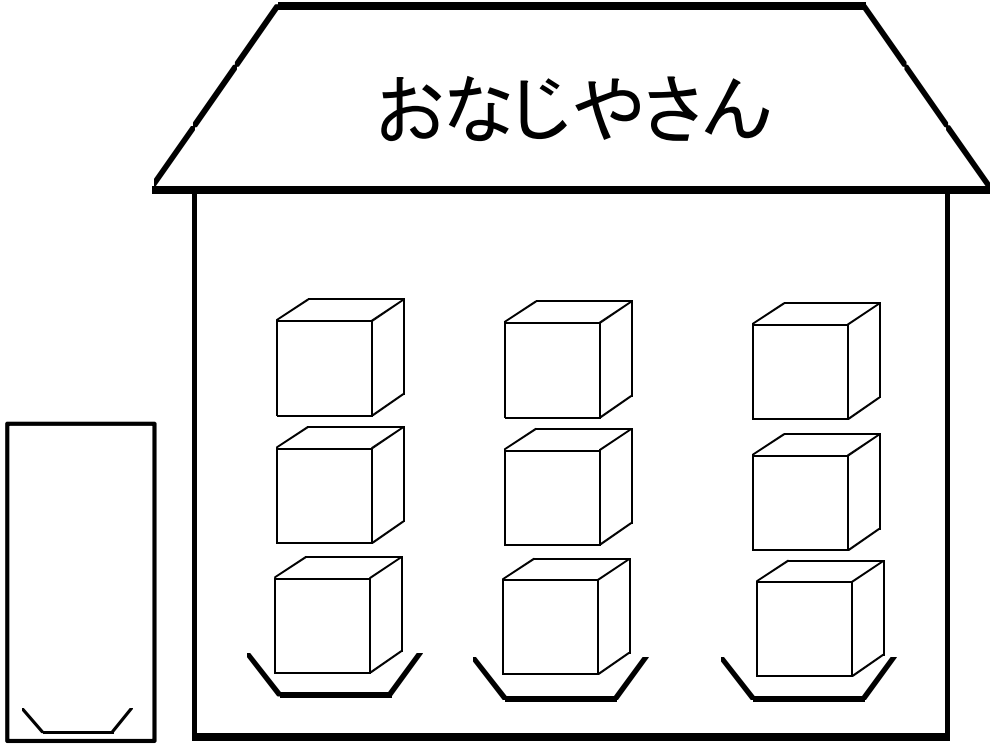


下の おなじやさんは 1つ1つの しなものを はこの
中に 入れていきます。
はこの 中に どんな しなものが はいっているか じゆうに そうぞ
う してみましょう。



この おなじやさんの はこの中に しなものを 入れると すると、
ぜんぶで なんこ いるでしょう。

① まず、かんばんを かいて
② つぎに、しきを かいて
③ 答えを もとめましょう。



<し き>

かんばん さ ら ぜんぶ

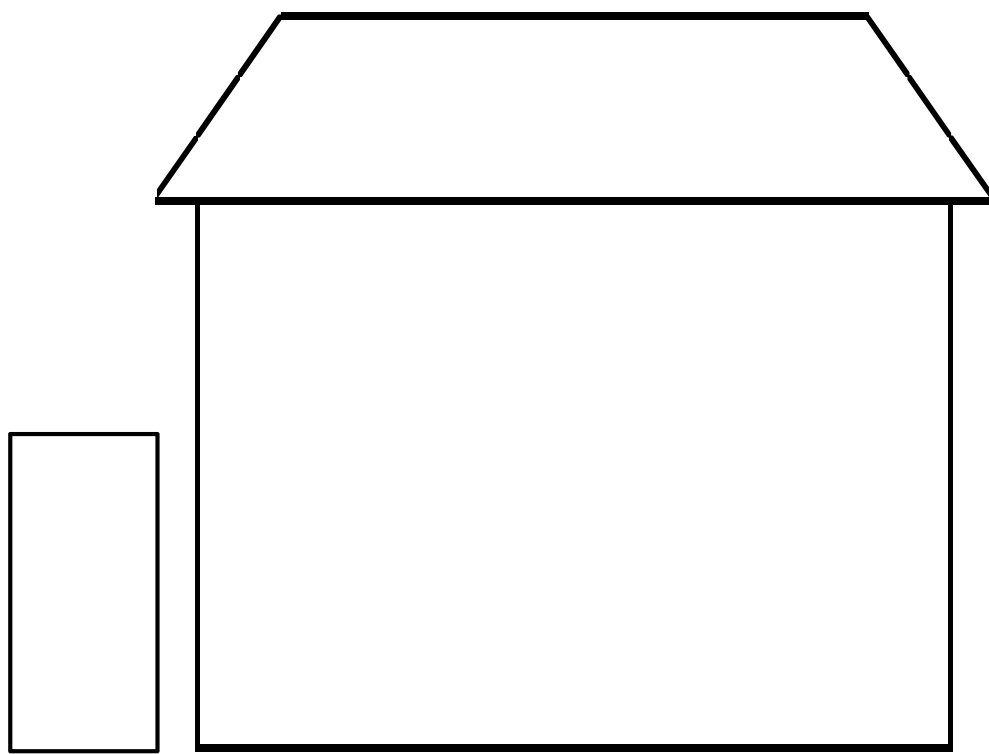
() ()

答え _____

3 の だ ん な ま え

ぼか んん	お 店 の 中 の さ ら の 数									と な え か た	
										し き	
√	□ □ □										
√	□ □ □	□ □ □									
√	□ □ □	□ □ □	□ □ □								
√	□ □ □	□ □ □	□ □ □	□ □ □							
√	□ □ □	□ □ □	□ □ □	□ □ □	□ □ □						
√	□ □ □	□ □ □	□ □ □	□ □ □	□ □ □	□ □ □					
√	□ □ □	□ □ □	□ □ □	□ □ □	□ □ □	□ □ □	□ □ □				
√	□ □ □	□ □ □	□ □ □	□ □ □	□ □ □	□ □ □	□ □ □	□ □ □			
√	□ □ □	□ □ □	□ □ □	□ □ □	□ □ □	□ □ □	□ □ □	□ □ □	□ □ □		

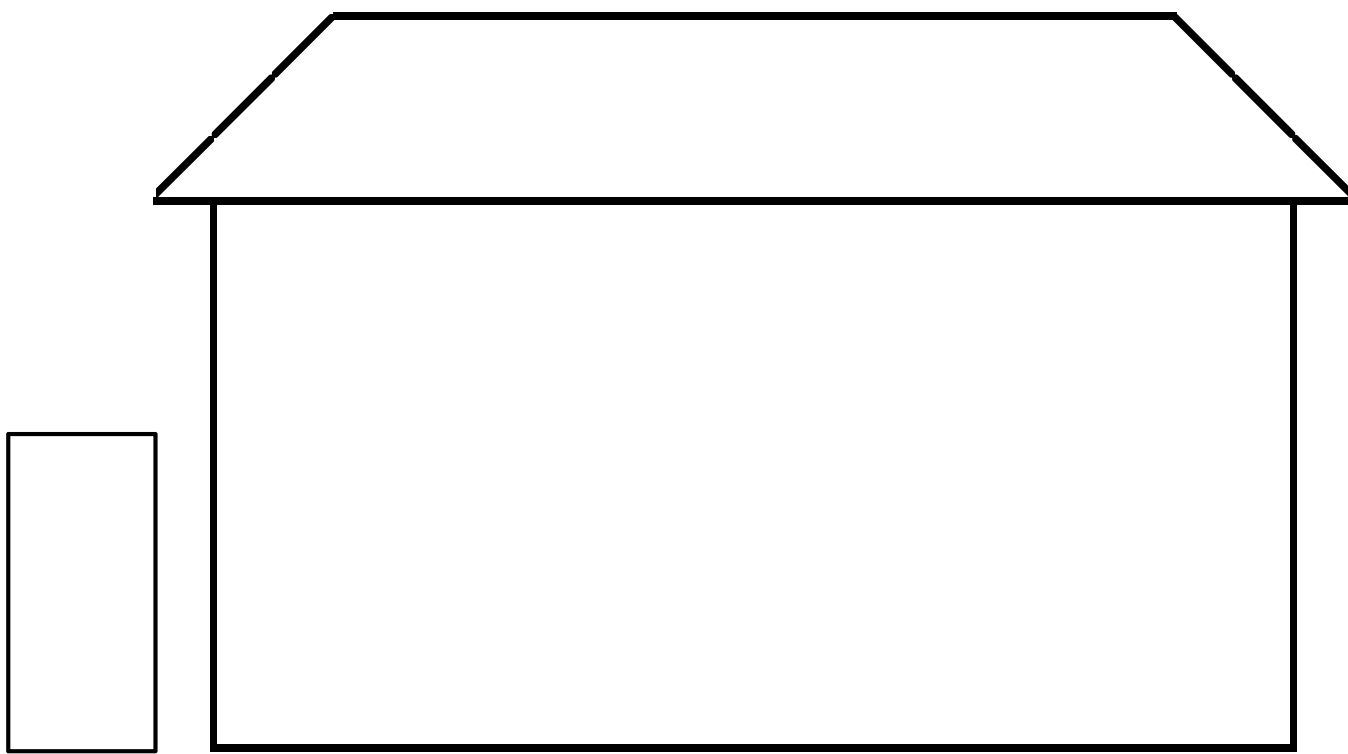
- ① りんごが、1さらに 7こ はいています。
- ② おなじ ものが、3さら あります。
- ③ りんごは、ぜんぶで なんこ あるでしょう。
(タイルを つかって 答えを もとめましょう。)



しき

答え

- ① 1さらに 1こ、みかんが はいっています。
- ② おなじ ものが、6さら あります。
- ③ みかんは、ぜんぶで なんこ あるでしょう。
(タイルを つかって 答えを もとめましょう。)



しき

答え
