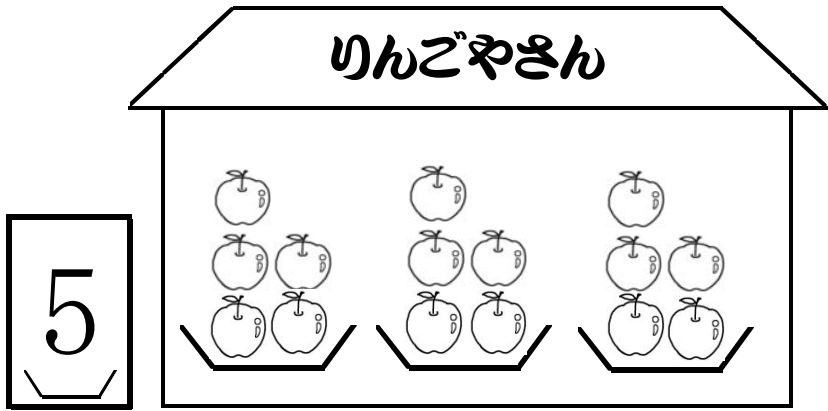


お店やさんの りんごは、ぜんぶで
なんこ ありますか。
しきに かいて、答えを もとめま



<し き>

かんぼん さ ら ぜんぶ


() ()

答え _____

5 の だ ん な ま え

ばか かん	お 店 の 中 の さ ら の 数										となえかた	
											し	き
5 ┌ └												が
											5 ×	=
5 ┌ └												
											5 ×	=
5 ┌ └												
											5 ×	=
5 ┌ └												
											5 ×	=
5 ┌ └												
											5 ×	=
5 ┌ └												
											5 ×	=
5 ┌ └												
											5 ×	=

お店やさんの りんごは、ぜんぶで
なんこ ありますか。
しきに かいて、答えを もとめま












<し き>

かんぼん さ ら ぜんぶ

() ()

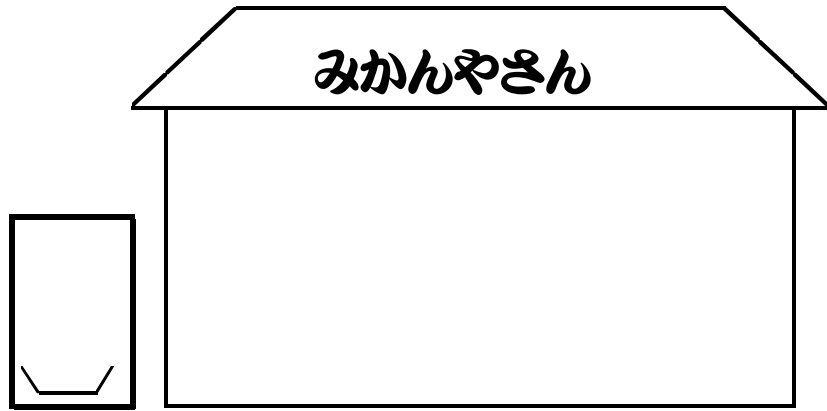
答え _____

2 の だ ん な ま え

ばか んん	お 店 の 中 の さ ら の 数									となえかた
										し き
}										が
										$\times 1 =$
}										が
										$\times 2 =$
}										が
										$\times 3 =$
}										が
										$\times 4 =$
}										
										$\times 5 =$
}										
										$\times =$
}										
										$\times =$
}										
										$\times =$
}										
										$\times =$

- ① みかんが、1さらに 6こ はいています。
- ② おなじずつ はいった さらが 3さら あります。
- ③ みかんは、ぜんぶで なんこ ありますか。

上の もんだいを 読んで、下のお店やさんの 絵のなかに かんばん さらの数 みかんの数 を書き入れましょう。



<し き>

かんばん () さ ら () ぜんぶ

答え _____

※ よく おぼえて おこう！
1さらに 2と 書いてある
かんばんが た。

6 の だ ん な ま え

ばか んん	お 店 の 中 の さ ら の 数									と な え か た し き	
	