

ポイント  
G1

# 確認テスト

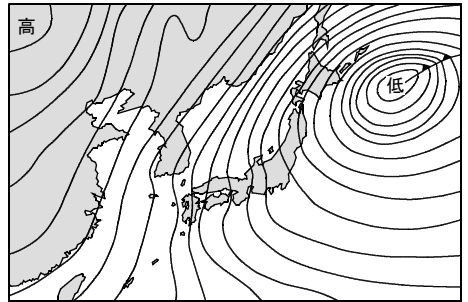
名前

得点

① 次の問いに答えなさい。

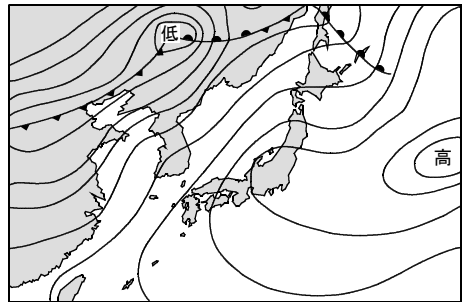
- (1) 図1は、ある日の天気図を示したものである。
- ① この天気図は、どの季節の天気を示したのか。次のア～ウから選び、記号で答えなさい。  
ア. 春    イ. 夏    ウ. 冬
- ② この天気図に見られる気団(高気圧)の名前を答えなさい。

図1



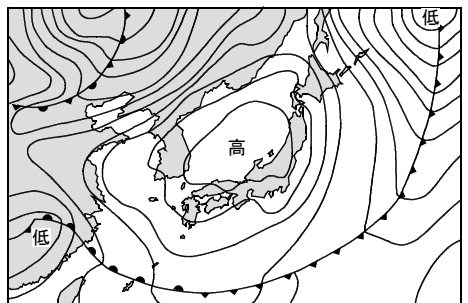
- (2) 図2は、ある日の天気図を示したものである。
- ① この天気図は、どの季節の天気を示したのか。次のア～ウから選び、記号で答えなさい。  
ア. 春    イ. 夏    ウ. 冬
- ② この天気図に見られる気団(高気圧)の名前を答えなさい。

図2



- (3) 図3は、ある日の天気図を示したものである。
- ① この天気図は、どの季節の天気を示したのか。次のア～ウから選び、記号で答えなさい。  
ア. 春    イ. 夏    ウ. 冬
- ② 次の文は、この天気図に見られる高気圧について述べたものである。□の中に適当なことばを入れて文を完成させなさい。

図3



天気図中の高気圧は、□ I とよばれるもので、中国大陸に発達している □ II 気団から分かれたものである。

(1)	①	②
		⑩
		⑫
(2)	①	②
		⑩
		⑫
(3)	①	② I
		⑩
		⑫
		⑮
		⑮

ポイント <b>G1</b>	<b>確認テスト</b>	名前	<b>解答</b>	得点
-------------------	--------------	----	-----------	----

① 次の問いに答えなさい。

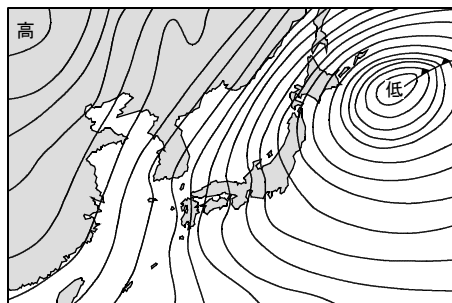
(1) 図1は、ある日の天気図を示したものである。

① この天気図は、どの季節の天気を示したのか。次のア～ウから選び、記号で答えなさい。

ア. 春    イ. 夏    ウ. 冬

② この天気図に見られる気団(高気圧)の名前を答えなさい。

図1



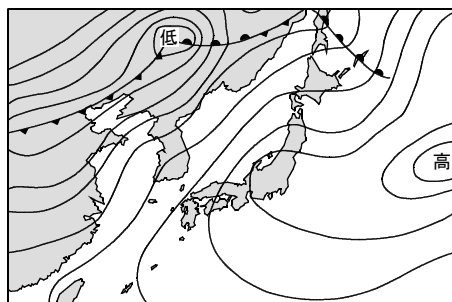
(2) 図2は、ある日の天気図を示したものである。

① この天気図は、どの季節の天気を示したのか。次のア～ウから選び、記号で答えなさい。

ア. 春    イ. 夏    ウ. 冬

② この天気図に見られる気団(高気圧)の名前を答えなさい。

図2



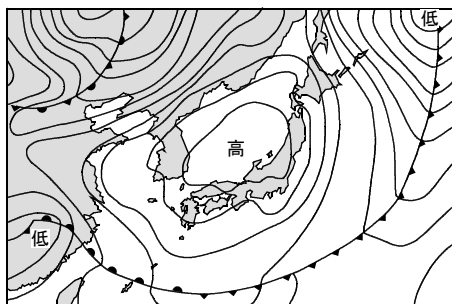
(3) 図3は、ある日の天気図を示したものである。

① この天気図は、どの季節の天気を示したのか。次のア～ウから選び、記号で答えなさい。

ア. 春    イ. 夏    ウ. 冬

② 次の文は、この天気図に見られる高気圧について述べたものである。□の中に適当なことばを入れて文を完成させなさい。

図3



天気図中の高気圧は、□ I とよばれるもので、中国大陸に発達している □ II 気団から分かれたものである。

(1)	①	ウ	②	シベリア気団
		⑩		⑳
(2)	①	イ	②	小笠原気団
		⑩		㉑
(3)	①	ア	② I	移動性高気圧
		⑩		⑮
			II	揚子江
				⑮